


## Математика 4-5

## Домашнее задание 26

**Задание 1** Что нужно поставить в пустые клетки? Проведи линии.

	2			5			8		
1	2	3	4	5	6	7	8	9	10
	3			6			9		

Сравни картинки. Что ты замечаешь? Что на картинках слева от мишки, а что справа? Что слева от девочки, а что справа? Раскрась на картинках мяч, который слева от мишки, в зелёный цвет, а тот, что справа, - в красный.





**Задание 2**

«Наша Таня громко плачет -  
Уронила в речку мячик».  
С мячика смылась краска.  
Раскрась. (на картинке мячики одинаковые).



Нарисуй вишни так, чтобы слева их было на одну меньше, чем посередине, а справа - на одну больше.



**Задание 3** Реши примеры. Сложи и запиши результат.

$$\begin{array}{r} 1 \text{ } \img alt="1 teddy bear" data-bbox="318 251 354 291" \\ + 1 \text{ } \img alt="1 teddy bear" data-bbox="318 311 354 351" \\ \hline \square \end{array}$$

$$\begin{array}{r} 2 \text{ } \img alt="2 frogs" data-bbox="571 251 631 281" \\ + 3 \text{ } \img alt="3 frogs" data-bbox="571 311 662 341" \\ \hline \square \end{array}$$



$$\begin{array}{r} 6 \text{ } \img alt="6 blue balloons" data-bbox="294 431 378 501" \\ + 3 \text{ } \img alt="3 blue balloons" data-bbox="294 521 378 561" \\ \hline \square \end{array}$$

$$\begin{array}{r} 1 \text{ } \img alt="1 ant" data-bbox="548 463 588 493" \\ + 5 \text{ } \img alt="5 ants" data-bbox="548 503 673 563" \\ \hline \square \end{array}$$

$$\begin{array}{r} 7 \text{ } \img alt="7 drums" data-bbox="781 446 877 516" \\ + 2 \text{ } \img alt="2 drums" data-bbox="781 536 846 566" \\ \hline \square \end{array}$$

$$\begin{array}{r} 2 \text{ } \img alt="2 fish" data-bbox="298 688 369 728" \\ + 1 \text{ } \img alt="1 fish" data-bbox="298 758 328 788" \\ \hline \square \end{array}$$

$$\begin{array}{r} 2 \text{ } \img alt="2 candles" data-bbox="551 688 588 733" \\ + 4 \text{ } \img alt="4 candles" data-bbox="551 753 630 798" \\ \hline \square \end{array}$$

$$\begin{array}{r} 2 \text{ } \img alt="2 candies" data-bbox="781 688 866 728" \\ + 3 \text{ } \img alt="3 candies" data-bbox="781 758 890 798" \\ \hline \square \end{array}$$

### Задание 4

На каждом рисунке **10** бусинок. Запиши цифрами, сколько бусинок ты видишь, а сколько бусинок закрыто.

	<table border="1"> <tr><td>10</td></tr> <tr><td><input type="text"/></td><td><input type="text"/></td></tr> </table>	10	<input type="text"/>	<input type="text"/>
10				
<input type="text"/>	<input type="text"/>			
	<table border="1"> <tr><td>10</td></tr> <tr><td><input type="text"/></td><td><input type="text"/></td></tr> </table>	10	<input type="text"/>	<input type="text"/>
10				
<input type="text"/>	<input type="text"/>			
	<table border="1"> <tr><td>10</td></tr> <tr><td><input type="text"/></td><td><input type="text"/></td></tr> </table>	10	<input type="text"/>	<input type="text"/>
10				
<input type="text"/>	<input type="text"/>			
	<table border="1"> <tr><td>10</td></tr> <tr><td><input type="text"/></td><td><input type="text"/></td></tr> </table>	10	<input type="text"/>	<input type="text"/>
10				
<input type="text"/>	<input type="text"/>			
	<table border="1"> <tr><td>10</td></tr> <tr><td><input type="text"/></td><td><input type="text"/></td></tr> </table>	10	<input type="text"/>	<input type="text"/>
10				
<input type="text"/>	<input type="text"/>			
	<table border="1"> <tr><td>10</td></tr> <tr><td><input type="text"/></td><td><input type="text"/></td></tr> </table>	10	<input type="text"/>	<input type="text"/>
10				
<input type="text"/>	<input type="text"/>			

## Задание 5



Маша и Даша надели ботинки.  
 Маша и Даша взяли корзинки.  
 Маша и Даша надели платочки.  
 Маша и Даша пошли по грибочки.

Сколько ботинок и сколько платков?

Сколько корзинок и сколько грибков?

В доме новеньком кирпичном  
 В настроении отличном  
 Проживают две сестрички.  
 По утрам плетут косички.

У каждой сестрички по две косички.  
 Бантики в каждой косичке сестрички.

Сколько придется ленточек взять,  
 Чтобы сестричкам банты завязать?





