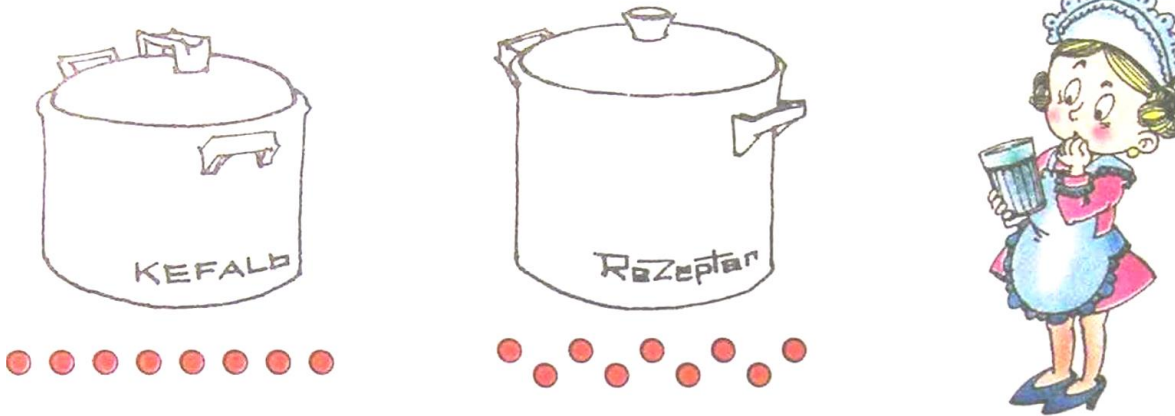


## Математика 4-5


## Домашнее задание 24

## Задание 1

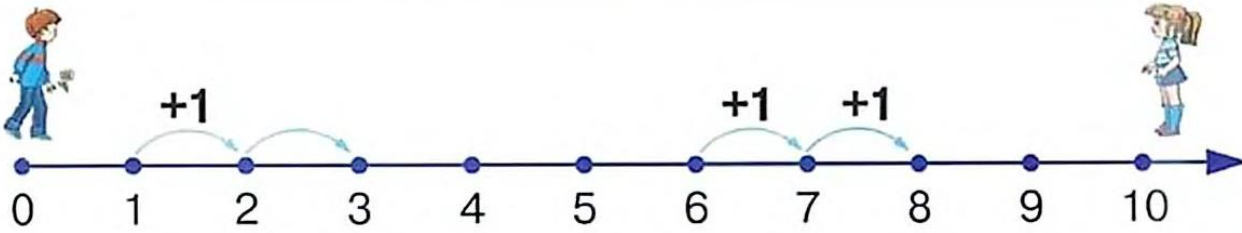
В красную кастрюлю вошло 8 стаканов воды, а в зелёную - 9. Объём какой кастрюли больше? Раскрась их, если число красных точек равно числу налитых стаканов.



У мамы зайчихи 3 пакета молока. Каждый зайчонок выпьет по одному стакану молока. Хватит ли молока на всех, если в каждом пакете по 2 стакана?



## Задание 2



**Запомни** Чтобы к любому числу прибавить 2, надо от этого числа по числовой прямой сделать два шага вправо, то есть 1 шаг и ещё 1 шаг. Прибавляя 1, называем следующее по счёту число.

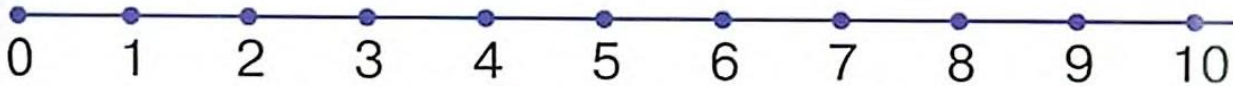
$$1 + 1 + 1 = 3$$

$$1 + 2 = 3$$

$$6 + 1 + 1 = 8$$

$$6 + 2 = 8$$

Реши примеры, пользуясь числовой прямой.



$$0 + 1 + 1 = \square$$

$$2 + 1 + 1 = \square$$

$$5 + 1 + 1 = \square$$

$$8 + 1 + 1 = \square$$

$$0 + 2 = \square$$

$$2 + 2 = \square$$

$$5 + 2 = \square$$

$$8 + 2 = \square$$

Сравни числа и поставь знаки  $>$ ,  $<$ ,  $=$ .

$$1 \square 10$$

$$6 \square 9$$

$$8 \square 2$$

$$7 \square 7$$

$$10 \square 0$$


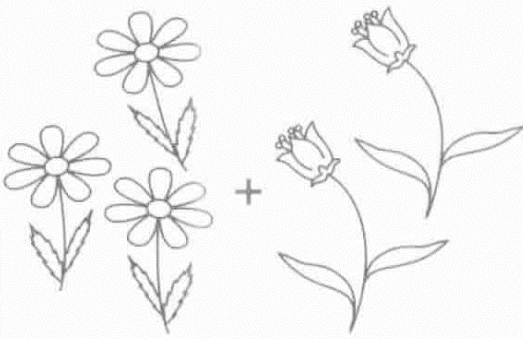
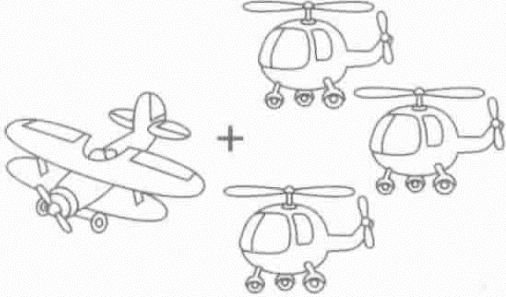


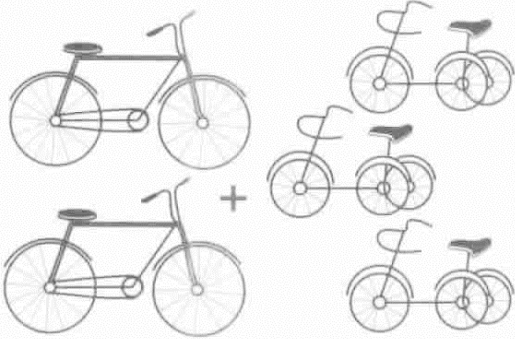
$$10 \square 9$$

$$5 \square 3$$

$$0 \square 10$$


**Задание 3**

Сосчитай предметы и реши примеры. Запиши ответы.


 <p><math>2 + 1 = \square</math></p>	 <p><math>3 + 2 = \square</math></p>
 <p><math>1 + 3 = \square</math></p>	 <p><math>4 + 1 = \square</math></p>
 <p><math>2 + 2 = \square</math></p>	 <p><math>2 + 3 = \square</math></p>

## Задание 4

У Мишки 3 машинки.



Покажи, как можно по-разному расставить их друг за другом. Помоги Мишке раскрасить машинки в каждом ряду.

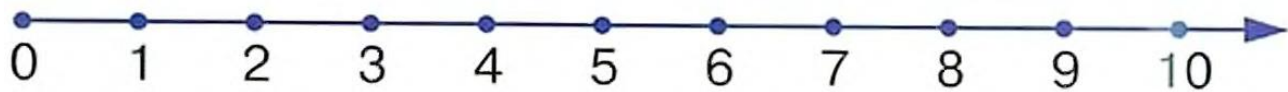


**Задание 5** Найди вместе с Буратино ключик от каждого замка и раскрась ключик в цвет замка. Сколько всего замков, ключиков? Что можно сказать об их количестве (больше или меньше)?



### Задание 6

Реши примеры, пользуясь числовой прямой.



$$3 + 1 = \square$$

$$8 - 1 = \square$$

$$8 + 1 = \square$$

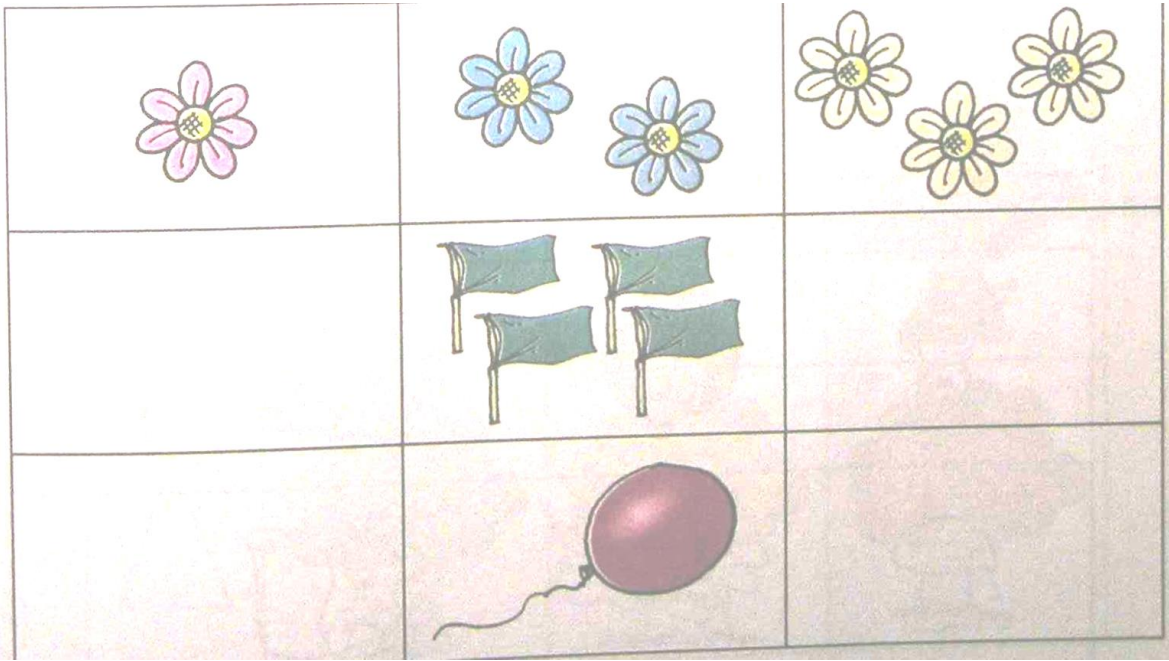
$$4 + 1 = \square$$

$$10 - 1 = \square$$

$$2 - 1 = \square$$

### Задание 7

Рассмотри таблицу, нарисуй в пропущенных клетках таблицы предметы, соблюдая закономерность. Раскрась жёлтым карандашом клетку таблицы, в которой ноль предметов.



### Задание 8

Реши примеры, прибавляя и вычитая **1** к числу указанному на паровозе. В окошках вагончиков запиши ответы.

