




Математика 4-5**Домашнее задание 23**

Задание 1 В какую из двух кружек поместится больше воды? По какому рисунку на этот вопрос ответить нельзя? Там, где это возможно, раскрась кружки, у которых объём больше. (Свои предположения по поводу объема (вместимости) изображенных на рисунке кружек ребёнок должен иметь возможность проверить. Дайте ему такие же кружки, какие нарисованы в задании (по две), и попросите определить, в какую из них поместится больше воды. Для этого нужно налить в одну из кружек воду до краев и аккуратно перелить ее в другую кружку.)



Раскрась ведро у того, кому меньше число раз придётся сходить за водой на колонку, чтобы наполнить бочки водой. (Дайте ребёнку небольшую кастрюльку и две кружки - большую и маленькую. Предложите ребёнку сначала наполнить кастрюлю водой с помощью большой, а затем - с помощью маленькой кружки. Сравните сколько больших (маленьких) кружек вошло в кастрюлю.)



Задание 2 В этом задании мы делим наше множество чашек по разным признакам – (размеру, цвету, форме) на две части (полки), т.е. на одной полке будут чашки одного размера (или цвета, или формы).

Представь, что у тебя **9** чашек.



Запиши цифрами :

- сколько чашек одинакового размера можно поставить

на верхнюю полку

на нижнюю полку

- сколько чашек одинакового цвета можно поставить

на верхнюю полку

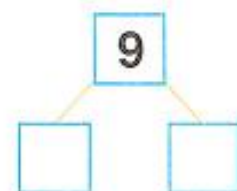
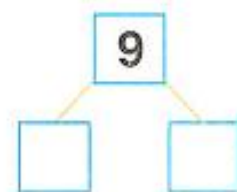
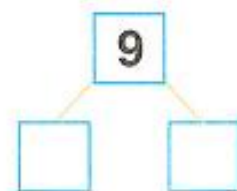
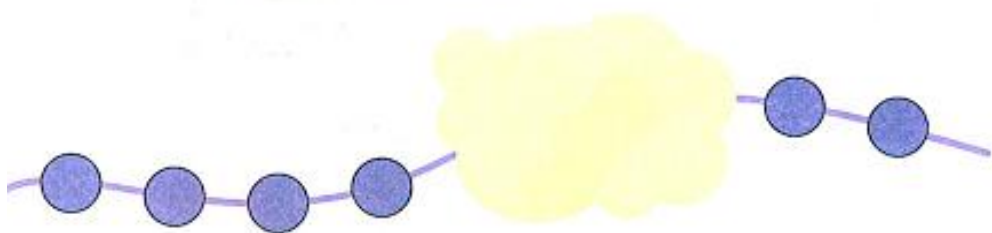
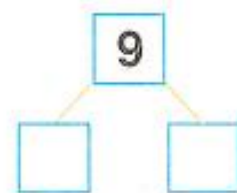
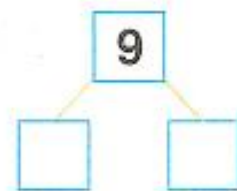
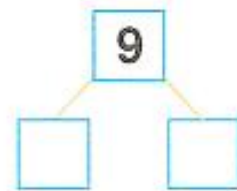
на нижнюю полку

- сколько чашек одинаковой формы можно поставить

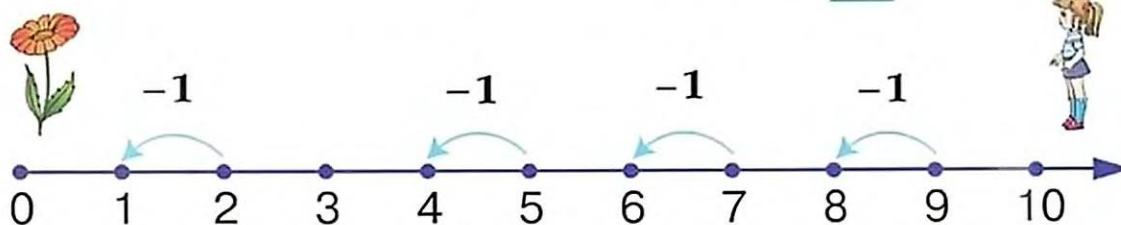
на верхнюю полку

на нижнюю полку

Задание 3 Запиши цифрами, сколько бусинок ты видишь, а сколько закрыли.



Задание 4

Действие вычитания 

ЗАПОМНИ! Чтобы из любого числа вычесть 1, надо от этого числа сделать по числовой прямой один шаг влево. Вычитая 1, называем предыдущее по счёту число.

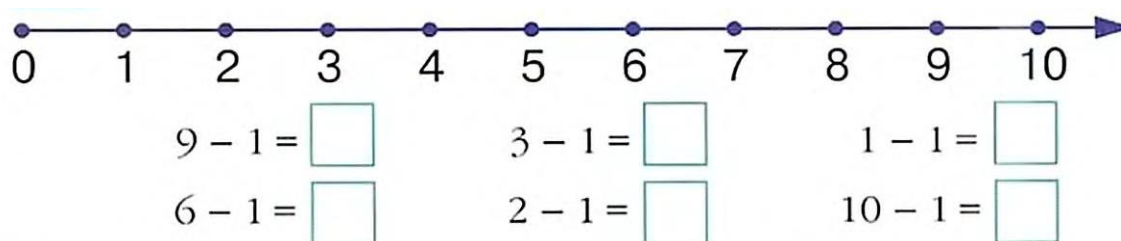
$$2 - 1 = 1$$

$$5 - 1 = 4$$

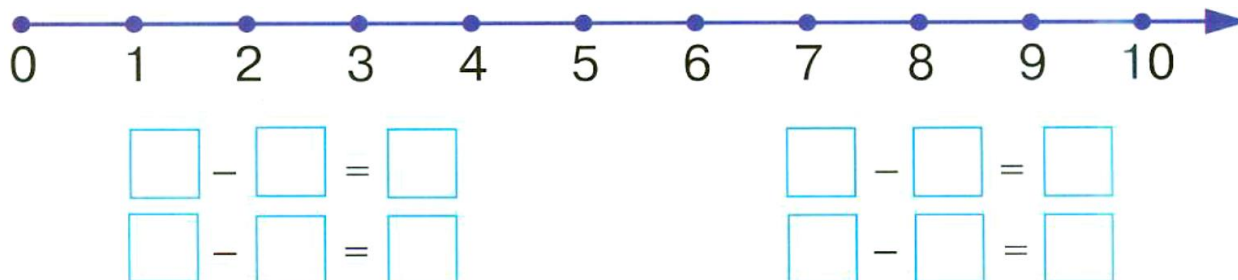
$$7 - 1 = 6$$

$$9 - 1 = 8$$

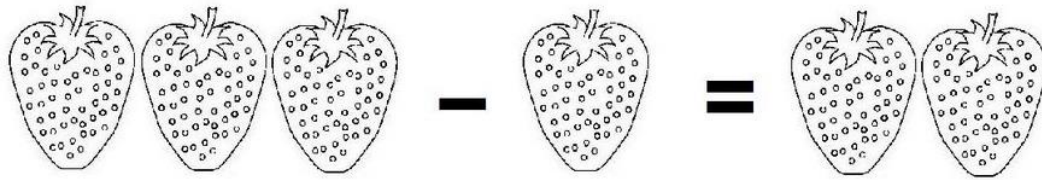
Пользуясь числовой прямой, реши примеры.



Попробуй сам составить примеры, пользуясь числовой прямой.

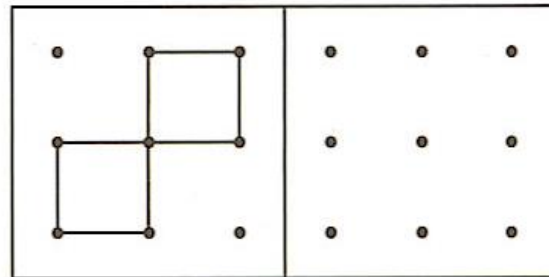
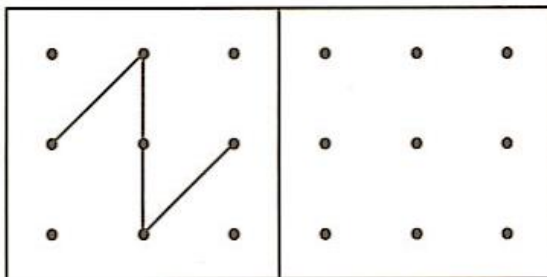
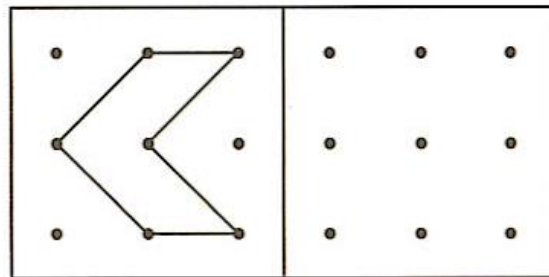
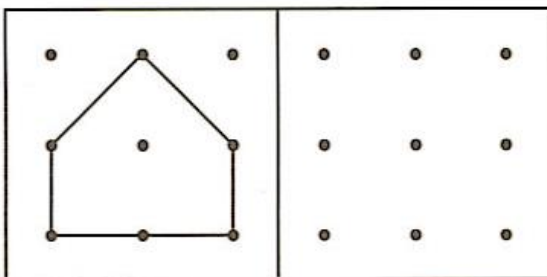


Задание 5 Реши пример. Напиши ответ.



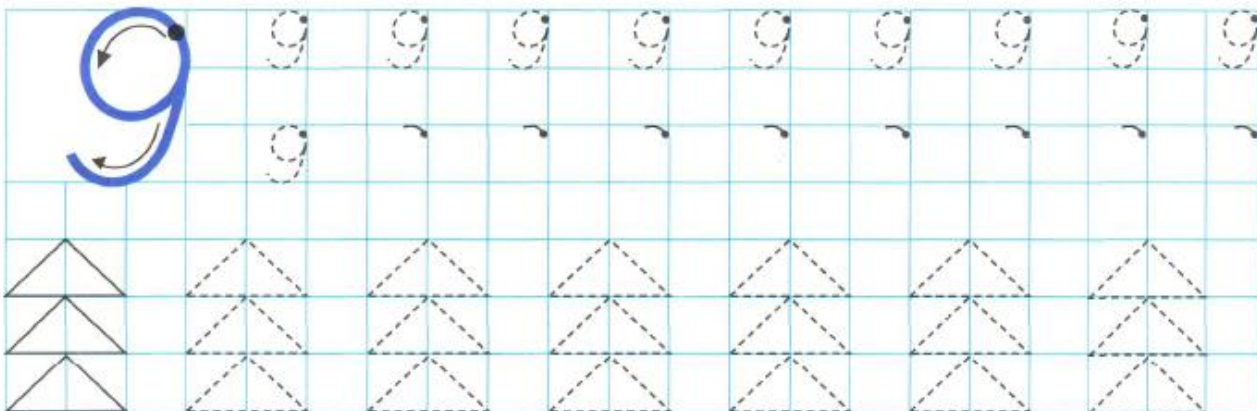
$$3 - 1 = \underline{\quad}$$

Задание 6 Нарисуй рядом такой же точно рисунок по точкам.



Задание 7 Потренируйся писать цифры. Продолжи узор.

Раскрась ёлочки.



Задание 8 Дорисуй и раскрась картинку.

