



## Математика 4-5

### Домашнее задание 18

**Задание 1** Дорисуй картинки или зачеркни лишние предметы.  
Соедини картинки с одинаковым количеством предметов.



Собери орехи в группы по 7. Сколько получилось групп?



## Задание 2

Вставь числа в «окошки». Зайка начал выполнять задание, а ты продолжи.





## Задание 3

### Задание для родителей.

С помощью разных ложек проверьте, какие числа спрятались в сосуде с водой, измерив объем воды сначала большой ложкой, а затем маленькой. Объясните ребенку полученный результат.

## Задание 4

Продолжи ряд.

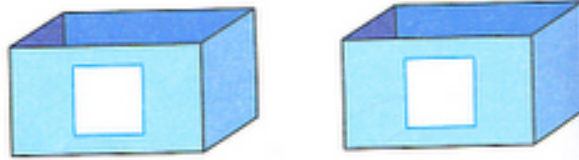


**Задание 5**

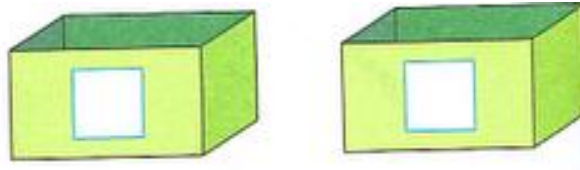
У Мишки 7 пуговиц.




Запиши цифрами, сколько пуговиц одинакового ЦВЕТА он может положить в каждую коробку.



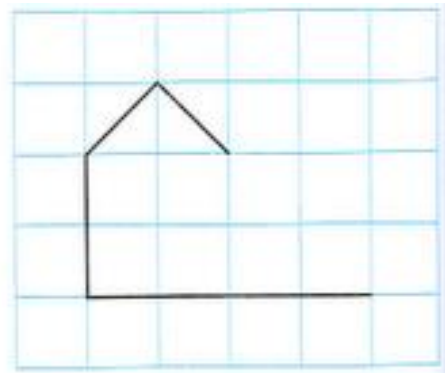
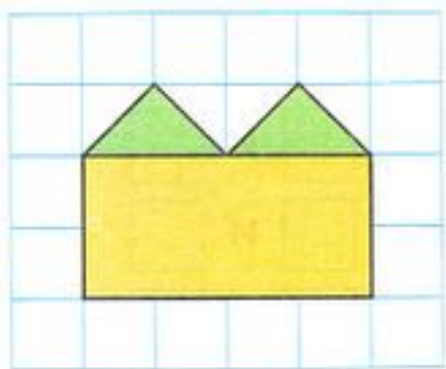
Запиши цифрами, сколько пуговиц одинакового РАЗМЕРА он может положить в каждую коробку.




Запиши цифрами, сколько пуговиц одинаковой ФОРМЫ он может положить в каждую коробку.

**Задание 6**

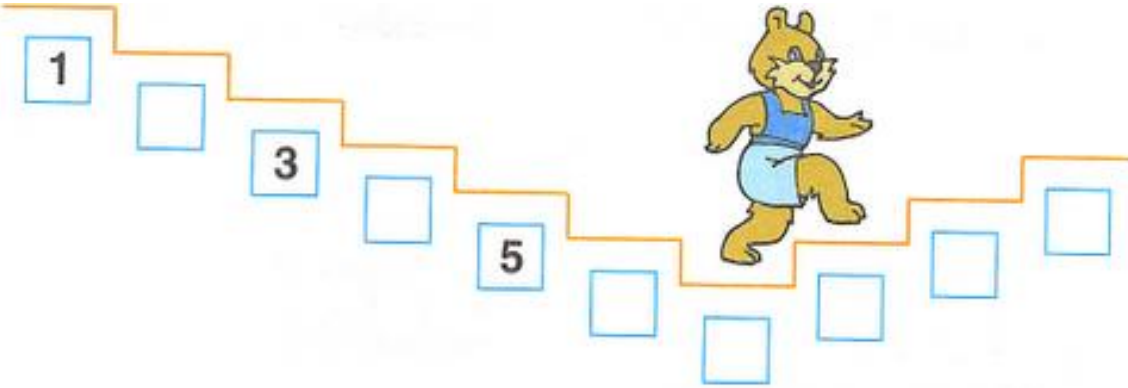
Сделай рисунки одинаковыми. Мишка начал выполнять задания, а ты закончи.



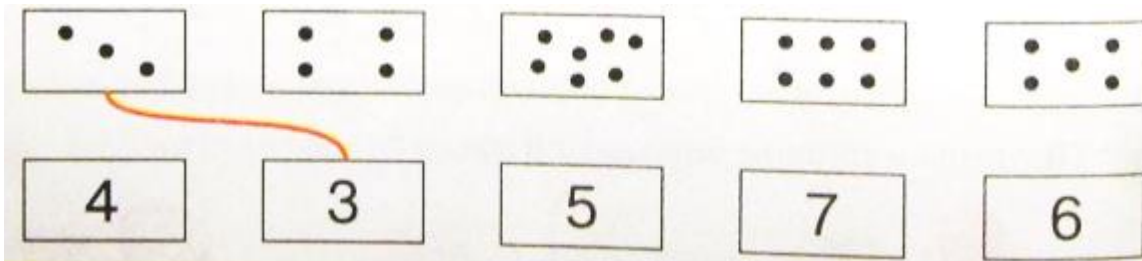
**Задание 6** Расположи ленты в порядке возрастания их длины. Раскрась самую короткую ленту в красный цвет, самую длинную - в зелёный, четвертую по длине - в оранжевый, а пятую - в синий.



**Задание 7** Запиши номера ступенек, которые пропустил Мишка, спускаясь вниз.



Соедини коробки с точками с правильной цифрой.



**Задание 8** Нарисуй узоры, веди карандаш четко по пунктирным линиям. Попробуй закончить один из узоров узор сам.

